



पाठशाला क्लासेज जयपुर

त्रिवेणी चौराहा, जयपुर
मोबाइल - 7611897930



ग्राम विकास अधिकारी (VDO) पेपर 28 दिसम्बर 2021 (द्वितीय पारी)

1. किस भारतीय मूल की अमरीकी महिला अंतरिक्ष यात्री ने जुलाई, 2021 में अंतरिक्ष की यात्रा की?

उत्तर - शिरीषा बांदला

2. 1857 के विद्रोह का कोटा में नेतृत्व किसने किया था?

उत्तर - जयदयाल और मेहराव खां

3. राजस्थान में भूमि उपयोग (2018-19) के संदर्भ में कौनसा सुमेलित नहीं है?

उत्तर - अकृषि क्षेत्र - 8.10%

4. निम्न में से कौन सही सुमेलित नहीं है?

उत्तर - अवनि लेखरा भारोत्तोलन

5. निम्न में से कौनसा (मरुस्थल) देश सही सुमेलित है?

उत्तर - अटाकामा-चिली

6. निम्न में से कौनसा सही सुमेलित है?

(i) खेजड़ली आंदोलन - अमृता देवी

(ii) चिपको आंदोलन - गौरा देवी

(iii) अपिको आंदोलन - कर्नाटक,

कूट

उत्तर - (i), (ii) तथा (iii)

7. अंग्रेजों को मुल्क रा मीठा ढंग किसने कहा?

उत्तर - शंकरदान सामौर ने

8. पूर्वी राजस्थान नहर परियोजना (ERCP) के संबंध में निम्नलिखित में से कौन से कथन सही हैं?

(i) यह परियोजना पूर्वी राजस्थान के 13 जिलों के पेयजल समस्या के स्थायी समाधान के लिए बनायी गयी है।

(ii) इसमें 26 विभिन्न बड़ी एवं मध्यम परियोजनाओं के माध्यम से 2.8 लाख हेक्टेयर भूमि की सिंचाई हेतु जल उपलब्ध कराने का प्रस्ताव है।

(iii) नवनेरा बैराज इस परियोजना का अभिन्न हिस्सा है।

(iv) प्रधानमंत्री नरेन्द्र मोदी ने हाल में इस परियोजना को राष्ट्रीय परियोजना घोषित किया है।

कूट

उत्तर - (i), (ii) एवं (iii)

9. कौनसा (आभूषण अंग) सुमेलित नहीं है?

उत्तर - रमझोल कमर

10. निम्नलिखित में से कौन सा आभूषण महिलाओं द्वारा नहीं पहना जाता है?

उत्तर - गोरखा

11. निम्नलिखित में से कौनसा (राष्ट्रीय भूवैज्ञानिक स्मारक स्थल) सही सुमेलित है?

उत्तर - महान सीमा भ्रंश सतूर (बूंदी)

12. इन्स्टिट्यूट ऑफ ट्रॉपिकल मेडिसिन एवं वायरोलॉजी कहाँ स्थापित किया जा रहा है?

उत्तर - जयपुर

13. किस लोक नृत्य में डफली, पुरालियो खंजरी पुँगी वाद्ययंत्रों का प्रयोग किया जाता है?

उत्तर - कालबेलिया



पाठशाला क्लासेज जयपुर

त्रिवेणी चौराहा, जयपुर
मोबाइल - 7611897930



14. राष्ट्रीय शिक्षा नीति 2020 में विद्यालय शिक्षा में 100% सकल नामांकन अनुपात प्राप्त करने का लक्ष्य है

उत्तर - 2030 तक

15. 'निमाडी एवं रागड़ी' किस बोली की उप-बोलियाँ हैं?

उत्तर - मालवी

16. केसरियाजी का मेला कहाँ भरता है?

उत्तर - धुलेव में

17. निम्न को सुमेलित कीजिए सूची -
सूची I (रामस्नेही सम्प्रदाय की शाखा)

(1) शाहपुरा

(2) सिंहथल

(3) खेड़ापा

(4) रेण

सूची II (स्थापनाकर्ता)

(i) संत हरिराम दास जी

(ii) संत रामदास जी

(iii) संत दरियाव जी

(iv) संत रामचरण जी

कूट -

उत्तर - (1)-(iv) (2)-(i) (3)-(iii) (4)-(ii)

18. किस गढ़ के लिए कर्नल जेम्स टॉड ने कहा था, "यदि उन्हें राजस्थान में एक जागीर की पेशकश की जाए.. तो वह इस गढ़ को चुनेंगे"

उत्तर - भैंसरोड़गढ़

19. "स्टारगेजिंग द फ्लेयर्स इन माई लाइफ पुस्तक के लेखक हैं -

उत्तर - रवि शास्त्री

20. टोक्यो ओलंपिक 2021 की पदक तालिका में भारत का कौनसा स्थान है?

उत्तर - 48वीं

21. निम्नलिखित में से कौन से कथन सही है?

(i) पोटवार पठार पाकिस्तान में स्थित हैं।

(ii) पेटागोनिया का पठार एडीज पर्वत की तलहटी में स्थित है।

(iii) तिब्बत का पठार हिमालय तथा कुनलुन पर्वत श्रेणी के मध्य स्थित है।

कूट

उत्तर - (i), (ii) एवं (iii)

22. मानगढ़ नरसंहार कब हुआ था?

उत्तर - 17 नवंबर 1913

23. सियाल, सीमा और नीफे हैं

उत्तर - पृथ्वी की परतें

24. मूसी रानी की छतरी कहाँ स्थित है?

उत्तर - अलवर

25. बीकानेर, जैसलमेर और चुरू राजस्थान कृषि जलवायु प्रदेश / खण्ड में सम्मिलित है?

उत्तर - अति शुष्क आशिक सिंचित



पाठशाला क्लासेज जयपुर

त्रिवेणी चौराहा, जयपुर

मोबाइल - 7611897930



26. 'पोपाबाई की पोल' नामक पुस्तिका किसने लिखी?

उत्तर - जयनारायण व्यास

27. हाल ही में राजस्थान में यूरेनियम के बड़े भण्डार पाये गये हैं

उत्तर - रोहिल (सीकर)

28. पुष्कर झील कितने घाटों से घिरी है?

उत्तर - 52

29. गरासिया जनजाति में गाँव के मुखिया को क्या कहा जाता है

उत्तर - पटेल

30. निम्न में से कौनसा जयपुर का प्रथम डेजर्ट पार्क है?

उत्तर - किशन बाग

31. तेरहताली नृत्य में किस लोकदेवता का यशोगान किया जाता है?

उत्तर - रामदेवजी

32. कार्जिद-21 नामक संयुक्त प्रशिक्षण अभ्यास किन देशों के द्वारा किया गया?

उत्तर - भारत- कज़ाकिस्तान

33. निम्नलिखित में से सुमेलित (मन्दिरस्थान) नहीं है

उत्तर - त्रिपुरासुन्दरी माता मंदिर तिलवाड़ा (बाड़मेर)

34. राजस्थान में पेट्रोलियम उत्पादन क्षेत्र कितने जिलों में फैला हुआ है?

उत्तर - 14

35. 'दीर्घ प्यार' आते हैं

उत्तर - पूर्णिमा और अमावस्या दोनों को

36. किस रम्मत कलाकार ने महात्मा गांधी को स्वतंत्र बावनी पुस्तक भेंट की थी?

उत्तर - तेज कवि

37. कौनसा ज्वालामुखी क्षेत्र दस हजार धुआरों की घाटी के नाम से जाना जाता है?

उत्तर - कटमई

38. पहली अखिल भारतीय टोल-फ्री वरिष्ठ नागरिक हेल्पलाइन में एलडरलाइन का नंबर है

उत्तर - 14567

39. सूची-1 को सूची-II से सुमेलित कीजिए दिए गए कूट में से सही उत्तर चुनिए -

सूची-1 (राष्ट्रीय पार्क)

(i) मानस राष्ट्रीय उद्यान

(ii) नागरहोल राष्ट्रीय उद्यान

(iii) साइलेंट वैली राष्ट्रीय उद्यान

(iv) वायनाड वन्यजीव अभ्यारण्य

सूची-II (स्थान)

(a) कर्नाटक

(b) केरल

(c) असम

(d) तमिलनाडु

कूट

उत्तर - (i) (c) (ii) - (a) (iii) (d), (iv) - (b)

40. 'पलाण' क्या है?



उत्तर - गोरबन्द का समानार्थी शब्द

41. निम्नलिखित प्रश्न में शब्दों के बार चुनाव उनके अक्षरों को उलट-पलट करके दिए गए हैं। इनमें से तीन एक प्रकार से समान हैं और एक अलग बेमेल है। नेमेल को छांटिए

उत्तर - HADN

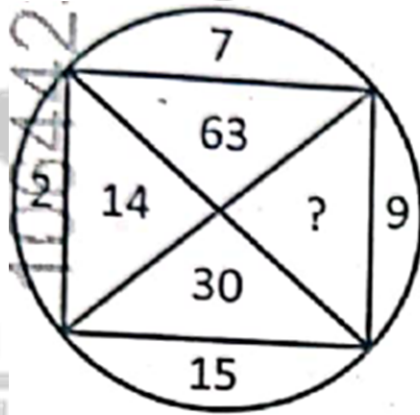
42. 25 छात्रों के एक सर्वेक्षण में यह पाया गया कि 15 ने गणित लिया था, 12 ने भौतिकी और 11 ने रसायन विज्ञान लिया था, 5 ने गणित और रसायन विज्ञान लिया था, 9 ने गणित और भौतिकी लिया था, 4 ने भौतिकी और रसायन विज्ञान लिया था और 3 ने सभी तीन विषय लिये थे। छात्रों की संख्या ज्ञात कीजिए जिन्होंने भौतिकी और रसायन विज्ञान दोनों लिया था लेकिन गणित नहीं लिया था।

उत्तर - 1

43. छः सदस्यों वाले एक परिवार P, Q R S X तथा Y। RY की बहन है। X के पति का भाई है। S P का पिता एवं Y का दादा है। इस परिवार में दो पिता तीन भाई तथा एक माँ है। परिवार में कितने पुरुष सदस्य हैं?

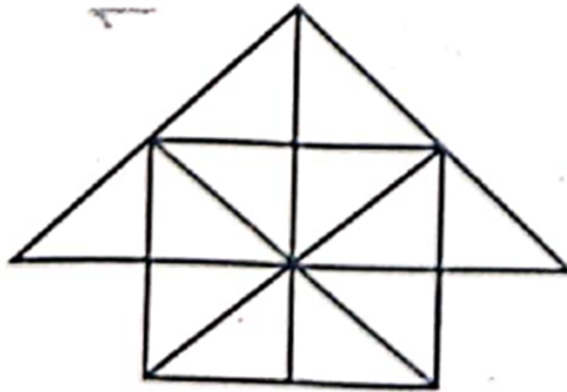
उत्तर - 4

44. लुप्त संख्या ज्ञात कीजिए



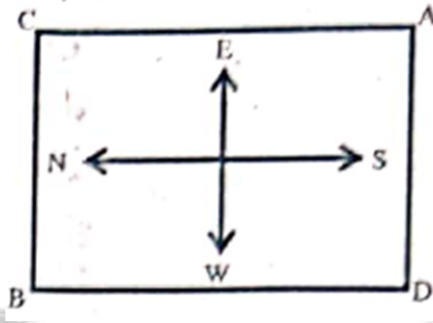
उत्तर - 135

45. दिए गए चित्र त्रिभुजों की संख्या बराबर है-



उत्तर - 28

46. नीचे दिए गए चित्र में प्रारंभिक स्थिति से, A और B एक भुजा की दूरी दक्षिणावर्त चलते हैं और तब विपरीत विकर्णतः (तिरछे) कोने की ओर जाते हैं। C और D एक भुजा वामावर्त चलते हैं और तब विपरीत विकर्णतः (तिरछे) कोने की ओर पहुँचते हैं। ADBC की प्रारंभिक स्थिति अपरिवर्तित हुई है



उत्तर - CBDA

47. यहाँ, एक कथन के पश्चात् तीन पूर्वधारणाएँ I, II तथा III दी गई हैं। आपको कथन तथा पश्चावर्ती पूर्वधारणाओं को ध्यान में रखते हुए निर्णय करना है कि कौनसी पूर्वधारणा / पूर्वधारणाएँ कथन में समाहित है/ है तथा उसी के अनुरूप अपना उत्तर चुनिए।

कथन: चलती हुई रेलगाड़ी में बाहर की ओर न झुकें।" रेलवे के डिब्बे में एक चेतावनी।

- पूर्वनिमान
- चलती रेलगाड़ी से बाहर की ओर झुकना खतरनाक है।
 - इस तरह की चेतावनी का प्रभाव होता
 - रेलवे के अधिकारियों का यह दायित्व है कि यात्रियों की सुरक्षा का ध्यान रखा जाए।

उत्तर - केवल पूर्वनिमान I और II अन्तर्निहित है।

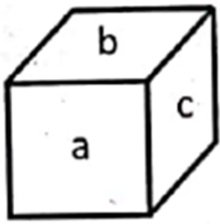
48. एक कूट भाषा में 'DELHI' को 'CDKGH' लिखा जाता है और 'MADRAS' को 'LZCQZR' लिखा जाता है, तो 'PATNA' की संकेत भाषा क्या होगी?

उत्तर - OZSMZ

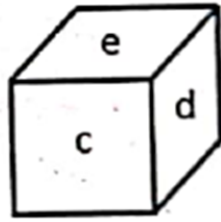
49. यदि $20-10$ का अभिप्राय 200, $81-4$ का अभिप्राय 12, 6×2 का अभिप्राय 4 है और $20+5$ का अभिप्राय 4 है. तो $100-10 \times 1000 \div 1000 + 100 \times 10 = ?$

उत्तर - 0

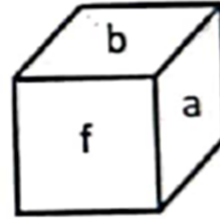
50. यहाँ एक धन के तीन अलग-अलग दृश्य दिए हैं। इन चित्रों पर आधारित निम्न प्रश्न का उत्तर दीजिए निम्न में से कौनसा विपरीत फलकों को इंगित करने वाला सही युग्म है?



(i)



(ii)



(iii)

उत्तर - b-d

51. यदि $|\vec{a}| = |\vec{b}| = |\vec{c}|$ तथा $\vec{a} + \vec{b} + \vec{c} = 0$, तो \vec{a} तथा \vec{b} के बीच का कोण है -

उत्तर - $\frac{2\pi}{3}$

52. यदि $3^{2x-3} = \frac{1}{27^{x-4}}$, तो x का मान है -

उत्तर - 3

53. एक व्यक्ति के बारे में ज्ञात है कि वह 4 में से 3 बार सत्य बोलता है वह एक पासे को उछालता है और बतलाता है कि उस पर आने वाली संख्या 6 है। इसकी प्रायिकता ज्ञात कीजिए कि पासे पर आने वाली संख्या वास्तव में 6 है

उत्तर - $\frac{1}{8}$



पाठशाला क्लासेज जयपुर

त्रिवेणी चौराहा, जयपुर

मोबाइल - 7611897930



54. माना $f : \mathbb{R} \rightarrow \mathbb{R}$ इस प्रकार है कि $f(1) = 3$ और $f'(1) = 6$, तो $\lim_{x \rightarrow 0} \left[\frac{f(1+x)}{f(1)} \right]^{\frac{1}{x}}$

उत्तर - e^2

55. उस वक्र का समीकरण जो बिन्दु $(1,0)$ से गुजरता है तथा अवकल समीकरण $(1 + y^2) dx - xy dy = 0$ को संतुष्ट करता है, होगा -

उत्तर - $x^2 - y^2 = 1$

56. आठ अंको वाली संख्याएं, जिसमें सभी अंक भिन्न हो की कुल संख्या है -

उत्तर - $\frac{9!}{2}$

57. $5 \cos \theta + 3 \cos \left(\theta + \frac{\pi}{3} \right) + 3$ का महत्व मान है -

उत्तर - 10

58. एक थैली 2 रुपये, 1 रुपये और 50 पैसे के सिक्के क्रमशः 6:7:15 के अनुपात में हैं। यदि थैली में कुल धन 1590 रुपये है, तो थैली में 50 पैसे के सिक्कों की संख्या है -

उत्तर - 900

59. यदि किसी त्रिभुज ABC में, कोण A का समद्विभाजक AD है, $AB = 8$ से.मी. $AC = 10$ से.मी. $BC = 13.5$ से.मी. है, तो BD का मान है

उत्तर - 6 से.मी.

60. 11 परिणामों का औसत 55 है, यदि प्रथम छः परिणामों का औसत 52 और अन्तिम छः परिणामों का औसत 57 हों, तो छठा परिणाम होगा -

उत्तर - 49

61. राजस्थान लोकायुक्त और उपलोकायुक्त अधिनियम को राष्ट्रपति की स्वीकृति कब प्राप्त हुई?

उत्तर - 1973

62. निम्नलिखित में से कौनसा विषय भारत के संविधान की 11वीं अनुसूची में सूचीबद्ध नहीं है?

उत्तर - काँजी हाउस

63. भारतीय संविधान के कौनसे भाग में सेथ एवं राज्य के प्रशासनिक संबंध वर्णित है?

उत्तर - भाग-11, अध्याय-2

64. निम्न में से कौनसा (अनुच्छेद प्रावधान) युग्म गलत है?

उत्तर - अनुच्छेद 165 - राज्यपाल का विशेष अभिभाषण

65. बलवंत राय मेहता समिति का संबंध है

उत्तर - स्थानीय स्वशासन

66. निम्न में से कौनसे विधानसभा चुनाव में राजस्थान विधानसभा के सदस्यों की संख्या 184 से बढ़ाकर 200 कर दी गई थी?

उत्तर - छठे विधानसभा चुनाव में

67. गरीबी रेखा से नीचे जीवन यापन करने वालों का सर्वेक्षण करवाना किसका दायित्व है?

उत्तर - सांख्यिकी अधिकारी

68. राजस्थान में लोकायुक्त के संबंध में निम्नलिखित में से कौनसा कथन गलत है?

उत्तर - वह मुख्य न्यायाधीश द्वारा नियुक्त होता है

69. राजस्थान में छावनी मण्डल की स्थापना कहाँ की गई है?

उत्तर - नसीराबाद

70. निम्न में से कौनसा कथन गलत है?



पाठशाला क्लासेज जयपुर

त्रिवेणी चौराहा, जयपुर

मोबाइल - 7611897930



उत्तर - तीसरी अनुसूची में संसदीय सचिवों के लिए शपथ या प्रतिज्ञान का प्रारूप शामिल है।

71. IBM 1401 है

उत्तर - द्वितीय पीढ़ी कम्प्यूटर

72. कॉम्पैक्ट डिस्क-रिकॉर्डबल (CD-R)

उत्तर - (A) राइट वन्स रीड मैनी (WORM) डिस्क

73. विश्व का प्रथम लैपटॉप कम्प्यूटर कब और किसके द्वारा मार्केट में प्रस्तुत किया गया था?

उत्तर - Epson, 1981

74. निम्न कथनों पर विचार करें

I : एक प्रॉक्सी फायरवॉल एप्लीकेशन लेयर पर फिल्टर करती है।

II : एक पैकेट-फिल्टर फायरवॉल नेटवर्क और ट्रांसपोर्ट लेयर पर फिल्टर करती है।

उपरोक्त कथनों में से कौनसे कथन सही है/हैं?

उत्तर - I तथा II दोनों

75. एम.एस. वर्ड को शुरू करने के लिए कौनसी फाइल उत्तरदायी है?

उत्तर - windword.exe

76. यदि आप एम.एस. एक्सेल सेल में आज की दिनांक चाहते हैं, तो आप उपयोग में लेंगे प्रविष्ट करना

उत्तर - Ctrl + ; (सेमीकॉलन)

77. एम. एस. पॉवर पॉइंट प्रजेन्टेशन के संदर्भ में रिक्त स्थानों को भरने के लिए उचित क्रमित युग्म है

_____ का एक प्रिन्टआउट निश्चित रूप _____ से के लिए होता है।

उत्तर - नोट्स, वक्ता

78. निम्न में से कौनसा हाई लेवल लैंग्वेज का एक उचित समूह है?

उत्तर - (RPG, LISP, SNOBOL)

79. निम्न में से कौनसा असत्य है?

उत्तर - TCP/IP मॉडल में इंटरनेट लेयर उपयोगकर्ता के निकटस्थ है।

80. I/O सिस्टम का संचार अनुक्रम है

उत्तर - OS ↔ डिवाइस डिवाइस ↔ डिवाइस कंट्रोलर ↔ I/O डिवाइसेज

81. Match the words given in column (A) with their antonyms listed in column (B) -

(A) Words

(a) Approximately

(b) Precisely

(c) Accurately

(d) Conspicuously

(B) Antonyms

(i) Questionably

(ii) Invisibly

(iii) Exactly

(iv) Roughly

उत्तर - a-(iii), b-(iv), c-(i), d-(ii)

82. The sentence: "Where did you buy this pen from?" (will be read in passive voice as)-

उत्तर - From where was this pen bought by you?

83. Choose the correct option that expresses the meaning of the underlined idiom:



पाठशाला क्लासेज जयपुर

त्रिवेणी चौराहा, जयपुर

मोबाइल - 7611897930



Smugglers tried to fish in the troubled waters during World War II.

उत्तर - to take advantage from a chaotic situation

84. Select the appropriate phrasal verb from the given options to fill the blank space and complete the sentence -

"Ten candidates _____ interview."

उत्तर - turned up

85. Fill in the blank with the correct option:

A speech given without preparation is called _____

उत्तर - Extempore

86. Match the parts of sentences listed in Column (A) with those of the ones given in Column (B) so as to frame appropriately meaningful sentences

Column (A)

- (a) Unless you work hard.....
- (b) If you were rich.....
- (c) The boy who stood first.....
- (d) We reached the station.....

Column (B)

- (i) _____ you would probably spend much.
- (ii) _____ got the prize.
- (iii) _____ before the train arrived.
- (iv) _____ you will fail.

उत्तर - a- (iv), b- (i), c- (ii), d- (iii)

87. Fill in the blank with the correct preposition-

Mr. Mohan divided his property _____ his four sons equally.

उत्तर - among

88. Fill in the blank with the correct conjunction:

He commands me _____ he were my boss.

उत्तर - as if

89. Choose the correct option

He said, "Give me some food, please." (Change into Indirect Speech)

उत्तर - He requested me to give him some food.

90. Out of the following proverbs, which one is correctly framed, does not have any error in its form?

उत्तर - Cleanliness is next to Godliness

91. निम्न में से किस शब्द का संधि विच्छेद सही नहीं है?

उत्तर - पित्रादि = पितृ + अदि

92. कौनसा विकल्प द्वन्द्व समास का उदाहरण नहीं है?

उत्तर - मकरध्वज, अंशुमाली

93. कौनसा शब्द युग्म अर्थ की दृष्टि से संगत नहीं है?

उत्तर - निशामुख - निशामृग = नाखून, घोंसला



पाठशाला क्लासेज जयपुर

त्रिवेणी चौराहा, जयपुर
मोबाइल - 7611897930



94. पर्यायवाची शब्दों के संबंध में असंगत युग्म चुनिए -

उत्तर - पाशहस्त, सावित्रेय, कृतांत बलराम

95. कौनसा वाक्यांश युग्म संगत नहीं है?

उत्तर - कोई काम करने की इच्छा चरिष्णु

96. निम्न में से किस विकल्प के सभी शब्द अशुद्ध है?

उत्तर - दृष्टव्य, दम्पति, पृथकीकरण

97. किस विकल्प में सभी शब्द तत्सम हैं -

उत्तर - पीत, पूर्ण, पाश, पुण्य

98. किस विकल्प में विलोम-युग्म अनुचित है?

उत्तर - *

99. अर्थ की दृष्टि से असंगत मुहावरे का चयन कीजिए

उत्तर - ऊँचे-नीचे पैर पड़ना - आँगन का समतल न होना।

100. इक नागिन अरु पंख लगायी उक्त लोकोक्ति का उचित भावार्थ है

उत्तर - एक दोष के साथ दूसरे का जुड़ जाना

